

Prénom : ..... Date : .....

♣ *Décrire une figure en vue de la reproduire (le carré, le rectangle).*♦ *Décrire une figure en vue de la reproduire (le losange).* ♥ *Décrire une figure en vue de la reproduire (le triangle).*
**1 ♣ Complète les phrases pour découvrir de quelle figure il s'agit, puis dessine-la.**

C'est un quadrilatère qui a 4 angles droits : c'est soit un ....., soit un .....

Ses côtés opposés sont parallèles et égaux deux à deux : c'est un .....

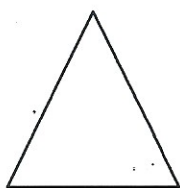
Les carrés et les rectangles ont **4 angles droits**.Le **carré** a **4 côtés égaux**.Le **rectangle** a les **côtés opposés égaux et parallèles**  
(2 longueurs égales et 2 largeurs égales).
**2 ♦ Complète les phrases pour découvrir de quelle figure il s'agit, puis dessine-la.**

C'est un quadrilatère qui a 4 côtés égaux : c'est soit un ....., soit un .....

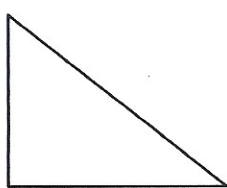
Il n'a pas d'angle droit : c'est un .....

Le **losange** n'a pas d'angle droit. Il a **4 côtés égaux**.Ses **côtés opposés** sont **parallèles**.
**3 ♥ Indique sur chaque triangle ses caractéristiques par un codage, puis écris son nom.**

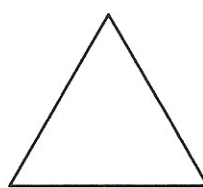
a)

C'est un triangle  
.....

b)

C'est un triangle  
.....

c)

C'est un triangle  
.....Un **triangle équilatéral**  
a **3 côtés égaux**.Un **triangle isocèle**  
a **2 côtés égaux**.Un **triangle rectangle**  
a un **angle droit**.
**4 ♠ Colorie le carré en vert (V), les rectangles en jaune (J), le losange en rose (R)  
et les triangles rectangles en orange (O). Attention, une figure ne sera pas coloriée !**
