

- ♣ Décrire une figure en vue de la reproduire (le carré, le rectangle).
- ◆ Décrire une figure en vue de la reproduire (le losange). ♥ Décrire une figure en vue de la reproduire (le triangle).

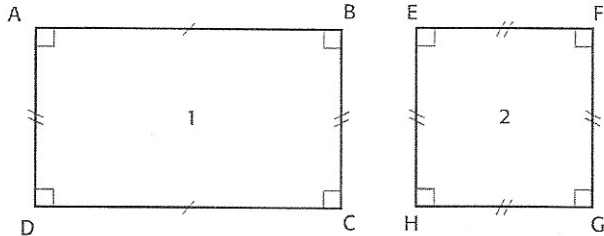
♣ **Observe ces deux figures, puis indique les caractéristiques de chacune.**

1

• La figure 1 a :
 - côtés

 - côtés

 - angles
 → C'est un

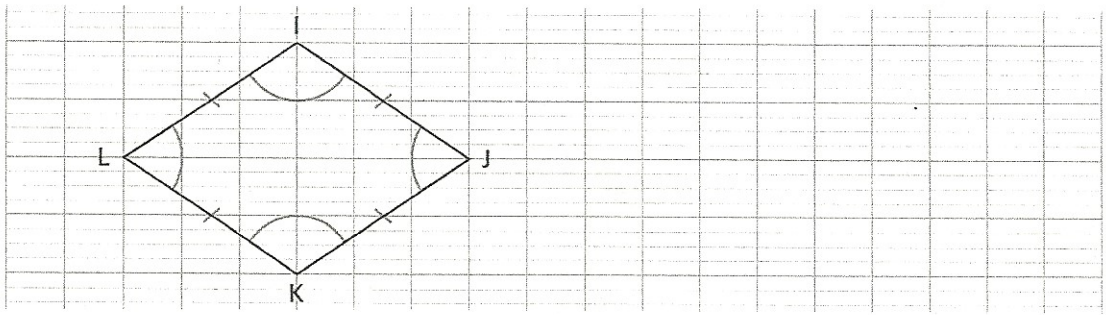


• La figure 2 a :
 - côtés

 - angles
 → C'est un

2

◆ a) **Reproduis cette figure. Aide-toi du repérage des sommets sur le quadrillage.**

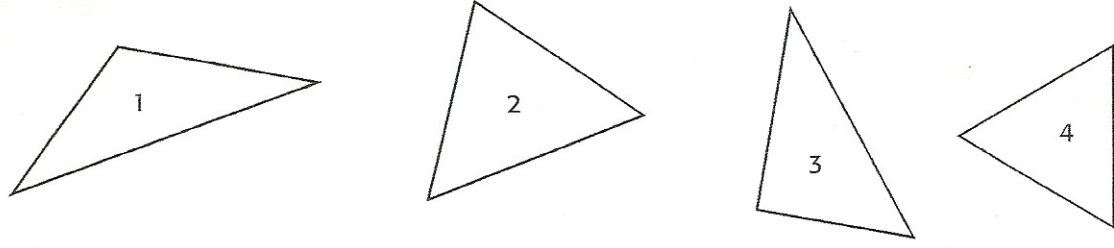


b) **Donne les caractéristiques de la figure ci-dessus.**

La figure a : côtés et sommets.
 Elle n'a pas → C'est un

3

♥ a) **Sur chaque triangle, place les signes qui indiquent l'angle droit et l'égalité des côtés.**



b) **Écris le nom de chaque triangle.**

1 : ; 2 :
 3 : ; 4 :

Évaluation des notions