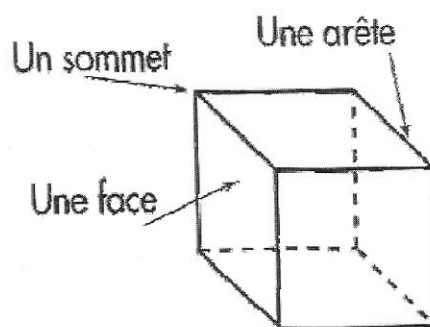



Les solides droits

Un solide droit a des **arêtes**,
des **sommets** et des **faces**.

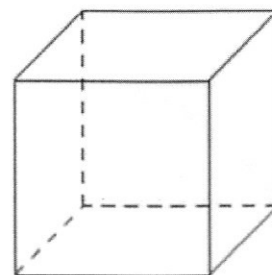


Les faces d'un pavé sont
des rectangles ou des carrés.



pavé

Les faces d'un cube
sont toutes des carrés.



cube