




- ♣ Connaitre les équivalences entre les heures (1 h / 13 h...).
- ♦ Lire les minutes (de 5 en 5).
- ♥ Lire le quart d'heure et la demi-heure.

1 ♣ Écris l'heure du matin et du soir sous chaque pendule.






Matin

 :
 :
 :




Après-midi / soir

 :
 :
 :

2 ♦ Complète l'heure indiquée par les horloges.


 17 :

 17 :

 17 :

3 ♥ Éva a rendez-vous à 4 heures et demie chez le dentiste. Entoure la montre qui indique l'heure de son rendez-vous.



4 ♠ Relie les bulles aux horloges correspondantes.

 15 : 30

Il est 3 heures et quart.

 15 : 15

Il est 3 heures et demie.

