

Nom :

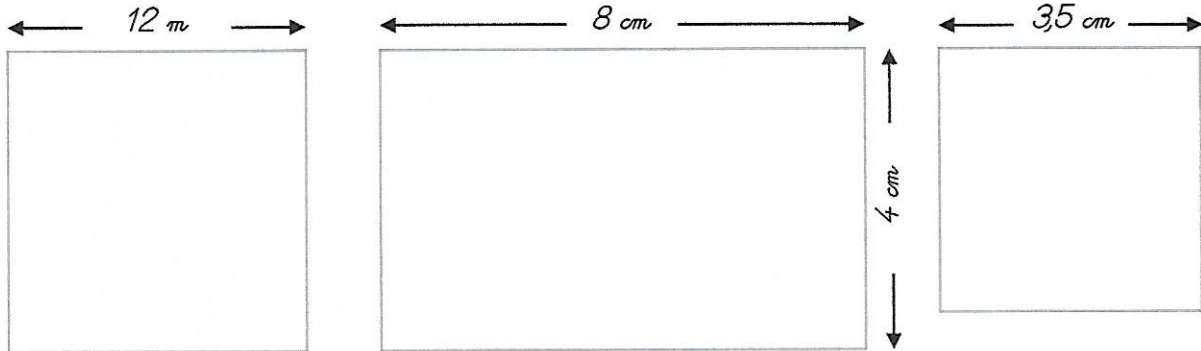
Date :

- Savoir calculer l'aire du carré et du rectangle à l'aide des formules adaptées.
- Connaître les unités usuelles de mesure d'aires.

Exercices

Les mesures d'aires du carré et du rectangle

1 Calcule l'aire de ces figures. Utilise les formules.



A =

A =

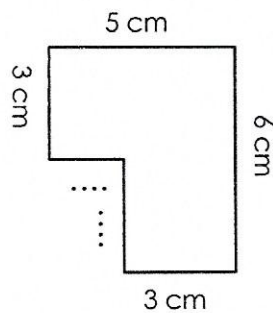
A =

A =

A =

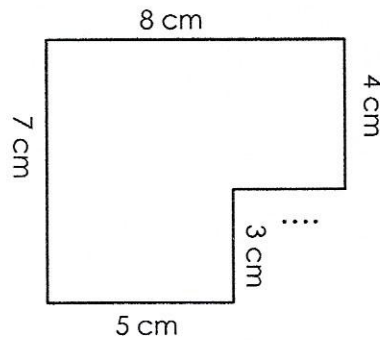
A =

2 Trouve les mesures manquantes et calcule l'aire des figures suivantes :



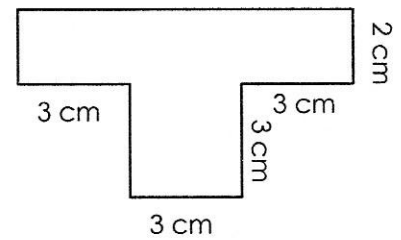
A =

A =



A =

A =



A =

A =